

令和6年度

社会演習

【歴史(下)】

回数	単元と内容		問題		解答	
			表面	ウラ面	表面	ウラ面
1	第6章 二度の世界大戦と日本	1節 第一次世界大戦と日本 2節 大正デモクラシーの時代				
2	第6章 二度の世界大戦と日本	3節 世界恐慌と日本の中国侵略 4節 第二次世界大戦と日本				
3	第7章 現代の日本と私たち	1節 戦後日本の出発 2節 冷戦と日本の発展 3節 新たな時代の日本と世界				

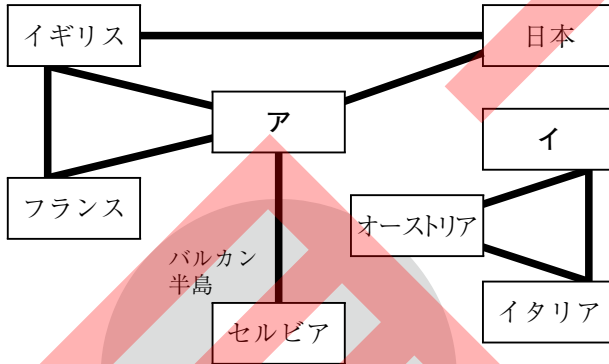
1	第6章 二度の世界大戦と日本	組 番	知	思	得点
	1 節 第一次世界大戦と日本 2 節 大正デモクラシーの時代	氏 名	60	40	100

1 次の年表を見て、各問いに答えなさい。

年	できごと
1914	(①)が始まる…………… A
1917	(②)革命が起こる…………… B
1919	ドイツで(③)が定められる…………… C
1921	(④)会議が開かれる
1925	日本で(⑤)が制定される
1928	ソ連が(⑥)を始める…………… D

五か年計画
ワシントン
治安維持法
第一次世界大戦
ロシア
三・一独立
民族自決
ワイマール憲法

- 年表中の①～⑥にあてはまることばを、右上の語群の中から選んで、それぞれ書きなさい。
- A**について、下の図は当時の国際関係を表したものである。この図を見て、次の問いに答えなさい。



- 上の図中**ア**、**イ**にあてはまる国名をそれぞれ書きなさい。
- 図中のバルカン半島は、当時何と呼ばれていたか書きなさい。
- 図中の**ア**、イギリス、フランスの3国の協力関係を何というか書きなさい。
- A**について、参戦したどの国も大量の兵士と物資を前線に送るために、国民・経済・資源や科学技術を総動員した戦争になった。このような戦争を何というか書きなさい。
- B**の革命の結果、1922年に成立した国の名前を書きなさい。
- B**の革命を指導した人物の名前を書きなさい。
- C**と同じ時期にアメリカのウィルソン大統領の提案でつくられた、世界平和と国際協調を目的とする国際機構を何というか書きなさい。
- D**を始めた人物の名前を書きなさい。

2 次の各問いに答えなさい。

- 1922年に部落差別からの解放を目指すため、京都で結成された組織を何というか書きなさい。
- 労働者が労働条件の改善などを要求してストライキなどを行うことを何というか書きなさい。
- 大正期に活躍した人物について、次の各文にあてはまる人物を下の語群の中から選んで、それぞれ書きなさい。
 - 「羅生門」「蜘蛛の糸」など、知性的な短編で人々に新鮮な印象をあたえた作家
 - 青鞜社を結成して女性解放を唱え、新婦人協会を設立した人物
 - 民本主義を唱え、一般民衆の意向に沿って政策を決定することを主張した人物

【 平塚らいてう 芥川龍之介 吉野作造 小林多喜二 美濃部達吉 】

1 〈知識・技能〉各3点(45点)

(1)	①	3
	②	革命 3
	③	3
	④	会議 3
	⑤	3
	⑥	3
(2)	ア	3
	イ	3
(2)	②	3
		3
(3)		3
		3
(4)		3
		3
(5)		3
		3
(6)		3
		3
(7)		3
		3
(8)		3
		3

2 〈知識・技能〉各3点(15点)

(1)		3
		3
(2)		3
		3
(3)	①	3
	②	3
	③	3

3 次の各問いに答えなさい。

- (1) 大正時代の政治のようすについて説明した次の文を読み、①～③にあてはまることばの組み合わせとして最も適当なものを、下のア～エまでのの中から選んで、そのかな符号を書きなさい。

藩閥や一部の役人中心の政治が続かなかで、(①)運動が高まり、(②)や加藤高明を首相とする(③)内閣が成立した。

ア ①自由民権 ②桂太郎 ③議会 イ ①護憲 ②原敬 ③議会
ウ ①護憲 ②原敬 ③政党 エ ①自由民権 ②桂太郎 ③政党

- (2) (1)の②の人物が組織した内閣について説明した文として適当なものを、次のア～エまでのの中から二つ選んで、そのかな符号を書きなさい。(順不同)

ア 内閣を構成するすべての大臣が同じ政党の党員であった。
イ 軍隊を出動させて米騒動を鎮圧した。
ウ 選挙法を改正し、選挙権をもつのに必要な納税額を引き下げた。
エ 普通選挙の実現に対して消極的な姿勢をとった。

- (3) ベルサイユ条約によってドイツに課せられた講和条件の内容として適当なものを、次のア～エまでのの中から二つ選んで、そのかな符号を書きなさい。(順不同)

ア 領土の縮小 イ 軍事増強
ウ 巨額の賠償金 エ 日本との同盟の破棄

- (4) 1925年、普通選挙法が成立したことで有権者は大幅に増えた。その理由を次のことばを使って簡潔に書きなさい。【納税額】

- (5) 大正時代の文化や生活について説明した文として誤っているものを、次のア～エまでのの中から二つ選んで、そのかな符号を書きなさい。(完答・順不同)

ア 中学校や高等女学校への進学率が高まり、大学や専門学校も数が増えた。
イ 新橋・横浜間に鉄道が開通するなど、交通機関が発達した。
ウ 森鷗外は、欧米の文化に向き合う知識人の視点から小説「舞姫」を発表した。
エ ラジオ放送が全国に普及し、新聞と並ぶ情報源になった。

〈思考・判断・表現〉

3(2)(3)各2点,(1)(4)(5)各4点(20点)

(1)	4
(2)	2
(3)	2
(4)	4
(5)	4

〈思考・判断・表現〉

4(1)(2)2点,(3)(4)(5)(6)各4点(20点)

4 次の史料や写真を見て、各問いに答えなさい。

- A 一、中国政府は、①が山東省にもっている
いっさいの権利を日本にゆずる。
一、日本の旅順・大連の租借の期限、②の
期限を99か年延長する。
一、中国政府は、南満州・東部内蒙古における鉞
山の採掘権を日本国民にあたえる。(部分要約)



- (1) 1915年、日本はAを中国に認めさせた。Aの史料を何と書いて書きなさい。
(2) Aについて、史料の①、②にあてはまることばの組み合わせとして最も適当なものを、次のア～エまでのの中から選んで、そのかな符号を書きなさい。

ア ①ドイツ ②南満州鉄道 イ ①ロシア ②南満州鉄道
ウ ①ロシア ②シベリア鉄道 エ ①ドイツ ②シベリア鉄道

- (3) 日本がAを中国に認めさせた後に起こった、次のア～ウのできごとを年代の古い順に並べて、そのかな符号を書きなさい。

ア 孫文が中国国民党を結成する。 イ 五・四運動が起こる。
ウ パリ講和会議が開かれる。

- (4) 日本の植民地となっていた朝鮮のようすとして誤っているものを、次のア～エまでのの中から一つ選んで、そのかな符号を書きなさい。

ア 民族自決の考えの影響を受けて、三・一独立運動が起こった。
イ 朝鮮総督府は、独立運動を武力で鎮圧した。
ウ 朝鮮総督府は、日本への同化政策を進めた。
エ 朝鮮総督府は、独立運動後も、朝鮮の人々に政治的な権利を認めなかった。

- (5) Bの人物は、どのような方法でイギリスに抵抗したか。抵抗した方法として適当なものを、次の語群の中から二つ選んで、それぞれ書きなさい。(完答・順不同)

【差別 非暴力 服従 無差別 暴力 不服従】

- (6) Bの人物がイギリスへの抵抗運動を始めた理由を、次のことばを使って簡潔に書きなさい。【自治】

(1)	2
(2)	2
(3)	4
(4)	4
(5)	4
(6)	4

2	第6章 二度の世界大戦と日本	組 番	知	思	得点
	3節 世界恐慌と日本の中国侵略 4節 第二次世界大戦と日本	氏 名	60	40	100

1 次の年表を見て、各問いに答えなさい。

年	できごと
1932	(①)が建国される 海軍将校により、(②)事件が起こる……………A
1933	日本が(③)を脱退する……………B
1936	陸軍青年将校により、(④)事件が起こる
1937	(⑤)戦争が始まる
1939	(⑥)が始まる……………C
1940	(⑦)が結ばれる
1941	(⑧)戦争が始まる
1945	日本に原子爆弾が落とされる……………D 日本は(⑨)を受け入れる

(1) 年表中の①～⑨にあてはまることばを、次の語群の中から選んで、それぞれ書きなさい。

五・一五	中華民国	第二次世界大戦	柳条湖	ポツダム宣言
ベルサイユ条約	満州国	国際連盟	南北	太平洋
二・二六	大韓帝国	日中	日独伊三国同盟	

- (2) Aの事件で殺害された首相の名前を書きなさい。
- (3) Bのできごとの原因の一つである柳条湖事件を調査するために、国際連盟が派遣した調査団の団長の名前を書きなさい。
- (4) Cの戦争が始まる前、ドイツがソ連と結んだ条約を何というか書きなさい。
- (5) Cの戦争は、ドイツがどこの国を侵攻したことで起こったのか書きなさい。
- (6) Dについて、a 8月6日、b 8月9日に原子爆弾が落とされた日本の都市をそれぞれ書きなさい。

2 次の各問いに答えなさい。

- (1) 第一次世界大戦後のヨーロッパで、競争に打ち勝った強い者が弱い者を支配する社会を望んで、人間の平等を否定した政治運動のことを何というか、カタカナで書きなさい。
- (2) 国民政府(国民党)と共産党の内戦が行われていた中国で、共産党を率いていた人物の名前を書きなさい。
- (3) 挙国一致の戦時体制をつくりあげるために、1940年に日本のすべての政党が解散して、合流した組織を何というか書きなさい。
- (4) 1938年、政府が議会の承認なしに、労働力や物資を動員できるようにした法律を何というか書きなさい。
- (5) ドイツの占領政策に対し、ヨーロッパ各地で行われた、武力などによる抵抗運動を何というか、カタカナで書きなさい。

1 〈知識・技能〉各3点(45点)

①		3
②	事件	3
③		3
④	事件	3
(1) ⑤	戦争	3
⑥		3
⑦		3
⑧	戦争	3
⑨		3
(2)		3
(3)		3
(4)		3
(5)		3
(6)	a	市 3
	b	市 3

2 〈知識・技能〉各3点(15点)

(1)	3
(2)	3
(3)	3
(4)	3
(5)	3

3 次の各問いに答えなさい。

(1) 次の写真A～Cを年代の古い順に並べて、その符号を書きなさい。



(2) 日本が東南アジアに進出した目的として誤っているものを、次のア～エまでのの中から一つ選んで、そのかな符号を書きなさい。

- ア イギリス・フランスがドイツとの戦いを優勢に進めていたため。
- イ 援蒋ルートを遮断するため。
- ウ 石油や天然ゴムの資源を獲得するため。
- エ 「大東亜共栄圏」の建設のため。

(3) ミッドウェー海戦後の戦局について述べた文として適当なものを、次のア～オまでのの中から二つ選んで、そのかな符号を書きなさい。(完答・順不同)

- ア この海戦の敗北後、日本軍の攻勢が止まり、戦争が長期化した。
- イ 日本軍はガダルカナル島で勝利し、連合国への反撃を開始した。
- ウ この海戦での日本の勝利をきっかけに、戦争が終結した。
- エ サイパン島が陥落したのをきっかけに、本土への空襲が激化した。
- オ 日本軍はこの海戦で勝利をおさめた後、マレー半島に上陸した。

(4) 次の①～④の下線部のうち、誤っていることばの符号をそれぞれ一つ書き、正しいことばに直して書きなさい。(完答)

- ① 1930年に立憲民政党の、浜口雄幸内閣は、軍備を縮小して国民の負担を減らすため、イギリスやアメリカと協調して、ワシントン海軍軍縮条約を結んだ。
- ② 1931年に日本は、柳条湖で満鉄が爆破されたことを口実に、盧溝橋事件を起こした。
- ③ アメリカの、ウィルソン大統領とイギリスのチャーチル首相は、1941年に、大西洋憲章を発表し、ナチス・ドイツに対決する意思と戦後の平和構想を示した。
- ④ 戦争が長期化するにつれ、それまで、徴兵を猶予されていた文科系の大学生などが軍隊に召集される、勤労動員も行われた。

4 次の各問いに答えなさい。

(1) 右の写真は、アメリカが世界恐慌による大不況に対応するために行った政策のようすを写したものである。アメリカが積極的に公共事業をおこした目的を簡潔に書きなさい。



(2) 次のア～エのできごとを年代の古い順に並べて、そのかな符号を書きなさい。

- ア 昭和恐慌が起こる。
- イ 関東大震災が起こる。
- ウ 日本で金融恐慌が起こる。
- エ 世界恐慌が起こる。

(3) 次の文章は、ブロック経済について説明したものである。文中の①～④について、正しいことばを()の中からそれぞれ選んで書きなさい。

イギリスやフランスは、本国と植民地の関係を密接にし、貿易を(① 拡大・縮小)した。また、それ以外の国からの輸入に対する関税を(② 低く・高く)した。
これに対して、植民地の(③ 多い・少ない)イタリア、ドイツ、日本などは自らのブロック経済圏を作ろうとした。その中でイタリアは、(④ ファシスト党・共産党)が勢力を伸ばした。

(4) 1945年のヤルタ会談で秘密協定を結んだ3国の組み合わせとして最も適当なものを、次のア～エまでのの中から選んで、そのかな符号を書きなさい。

- ア アメリカ・イタリア・ドイツ
- イ アメリカ・イギリス・ソ連
- ウ フランス・イタリア・ドイツ
- エ フランス・イギリス・ソ連

(5) 次のア～エのできごとを年代の古い順に並べて、そのかな符号を書きなさい。

- ア 長崎に原子爆弾が落とされる。
- イ 東京大空襲が起こる。
- ウ 玉音放送が流れる。
- エ ソ連が日本に侵攻する。

〈思考・判断・表現〉

3(1)3各3点,(4)各3点,(2)2点(20点)

(1)	→	→	3
(2)			2
(3)			3
	符号	ことば	
(4)	①		3
	②		3
	③		3
	④		3

〈思考・判断・表現〉

4(3)各2点,(1)(2)(4)(5)各3点(20点)

(1)				3
(2)	→	→	→	3
	①			2
	②			2
(3)	③			2
	④			2
(4)				3
(5)	→	→	→	3

3	第7章 現代の日本と私たち	組 番	知	思	得点
	1 節 戦後日本の出発 2 節 冷戦と日本の発展 3 節 新たな時代の日本と世界	氏 名	60	40	100

1 次の年表を見て、各問いに答えなさい。

年	できごと
1945	第二次世界大戦が終わる
1949	(①)が成立する
1950	警察予備隊が発足する……A
1951	(②)が結ばれる………B
1955	インドネシアのバンドンで (③)会議が開かれる………C
1972	(④)が日本に復帰する
1978	(⑤)が結ばれる
1990	東西ドイツが統一される
1993	ヨーロッパで(⑥)が発足する
2011	(⑦)が起きる

(1) 年表中の①～⑦にあてはまることばを、次の語群の中から選んで、それぞれ書きなさい。

石油危機	EU	大韓民国
沖縄	サンフランシスコ平和条約	
北海道	日ソ	中華人民共和国
EC	アジア・アフリカ	
東日本大震災	日韓基本条約	
日中平和友好条約	日中共同声明	

(2) 二度の世界大戦への反省から創られた国際組織を漢字4字で書きなさい。

- (3) (2)の国際組織の本部はアメリカの何という都市にあるか都市名を書きなさい。
- (4) 第二次世界大戦後、アメリカとソ連は厳しく対立するようになり、戦争寸前の緊張状態が長く続いた。この状態を何というか漢字2字で書きなさい。
- (5) Aの組織は次第に強化され、1954年には何という組織になったか書きなさい。
- (6) アメリカなどとBの条約を結んだ日本の首相の名前を書きなさい。
- (7) Cと同じ年に日本では自由民主党が結成され、以降、社会党と対立しながら政権をとり続けた。この体制を何というか書きなさい。
- (8) 日本経済は1955年から73年までの間、年平均10%程度の成長を続けた。これを何というか書きなさい。
- (9) 2001年、アメリカで起こった大規模なテロ事件を何というか書きなさい。

2 次の各問いに答えなさい。

- (1) 戦後の日本の政治改革は、GHQ(連合軍最高司令官総司令部)の指令のもとに進められた。GHQの最高司令官はだれか書きなさい。
- (2) 日本国憲法の基本原理は、基本的人権の尊重・平和主義とあと一つは何か書きなさい。
- (3) 朝鮮戦争の軍需物資が日本で調達されて日本の経済は好景気になり、復興が早まった。このときの好景気を何というか書きなさい。
- (4) 日本では、1998年に特定非営利活動促進法が制定されるなど、多くの非営利組織が活動している。この非営利組織をアルファベットで何というか書きなさい。
- (5) 2015年の国連サミットで、2030年までに達成すべきこととして、17の目標を掲げたものが採択された。これを何というか書きなさい。

1 〈知識・技能〉各3点(45点)

①		3
②		3
③	会議	3
(1) ④		3
⑤		3
⑥		3
⑦		3
(2)		3
(3)		3
(4)		3
(5)		3
(6)		3
(7)		3
(8)		3
(9)		3

2 〈知識・技能〉各3点(15点)

(1)		3
(2)		3
(3)		3
(4)		3
(5)		3

3 次の文章を読んで、各問いに答えなさい。

a 東西陣営の緊張がゆるむと、1989年、b ドイツではベルリンの壁が取りこわされ、翌年に東西ドイツが統一された。民主化の動きの中で経済に行き詰まったソ連は、1991年に解体して多くの国が独立した。
 一方で、旧ユーゴスラビアの内戦をはじめ各地で(①)が起きている。(①)を解決するうえで、平和維持活動の役割は大きく、民間の(②)も活躍している。

(1) 文章中の①、②にあてはまることばの組み合わせとして最も適当なものを、次のア～エまでのの中から選んで、そのかな符号を書きなさい。

- ア ①地域紛争 ②PKO イ ①公害問題 ②PKO
 ウ ①地域紛争 ②NGO エ ①公害問題 ②NGO

(2) 下線部 a について、二つの陣営の影響によって起きたできごととして適当なものを、次のア～エまでのの中から全て選んで、そのかな符号を書きなさい。
 (完答・順不同)

- ア 核兵器をふくむ軍備拡張を競い合った。
 イ 中国で、アメリカが支援する共産党と、ソ連が支援する国民党との間で内戦が起こった。
 ウ 朝鮮半島では、北緯38度線を境にして、南をアメリカ、北をソ連に占領された。
 エ ベトナムでのミサイル基地建設をめぐって緊張が極度に高まった。

(3) 下線部 b について、このできごとと同じ時期の日本のようすについて述べた文として最も適当なものを、次のア～エまでのの中から選んで、そのかな符号を書きなさい。

- ア 東京オリンピック・パラリンピックが開かれた。 イ 阪神・淡路大震災が発生した。
 ウ 世界金融危機の影響を受けた。 エ 不健全な好況(バブル経済)が発生した。

(4) 冷戦が激しくなると、GHQは日本の経済復興を重視するようになった。次の文はその理由について説明したものである。文中の①、②について、正しいことばを()の中からそれぞれ選んで書きなさい。

日本を①(東側・西側)陣営の強力な一員にし、②(東側・西側)陣営に対抗するため。

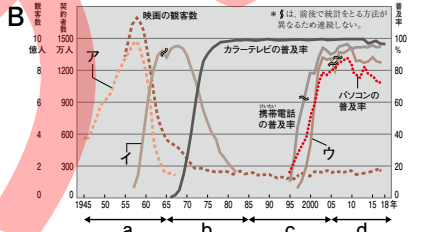
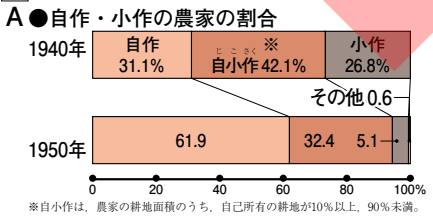
(5) 第二次世界大戦後、GHQの指令のもと、戦後改革が行われた。この改革について述べた文として誤っているものを、次のア～エまでのの中から一つ選んで、そのかな符号を書きなさい。

- ア 治安維持法が廃止され、政治活動の自由が認められた。
 イ 選挙法が改正され、選挙権が満20歳以上の男子にあたえられた。
 ウ 極東国際軍事裁判を行い、戦争中に重要な地位にあった人々を公職から追放した。
 エ 昭和天皇は、GHQの意向に従い、「人間宣言」を発表し、天皇が神であるという考え方を否定した。

(6) 次のA～Cのできごとを年代の古い順に並べて、その符号を書きなさい。

- A 朝鮮戦争 B 日中共同声明 C キューバ危機

4 次のグラフを見て、各問いに答えなさい。



- (1) Aのグラフの中で、1940年から1950年にかけて割合が増加した農家を書きなさい。
 (2) (1)の割合は、約何倍になったか書きなさい。
 (3) Aのような変化がなぜ起きたのか、その理由を次のことばを使って簡潔に書きなさい。【政府 地主 小作人】
 (4) Bのグラフの中で、①白黒テレビの普及率、②インターネットの普及率を表すものはどれか、ア～ウまでのの中からそれぞれ選んで、そのかな符号を書きなさい。
 (5) 次のできごとはそれぞれどの時期にあたるものか。Bのグラフの中のa～dまでのの中から選んで、その符号を書きなさい。
 ① 沖縄の日本復帰 ② 東日本大震災
 ③ 日本が国際連合に加盟 ④ 京都議定書の採択

〈思考・判断・表現〉

3 (1)4各2点、(5)6各3点、(2)3各4点(20点)

(1)		2
(2)		4
(3)		4
(4)	①	2
	②	2
(5)		3
(6)	→ →	3

4 (思考・判断・表現)各2点、(3)4点(20点)

(1)		2
(2)	約 倍	2
(3)		4
(4)	①	2
	②	2
(5)	①	2
	②	2
	③	2
	④	2

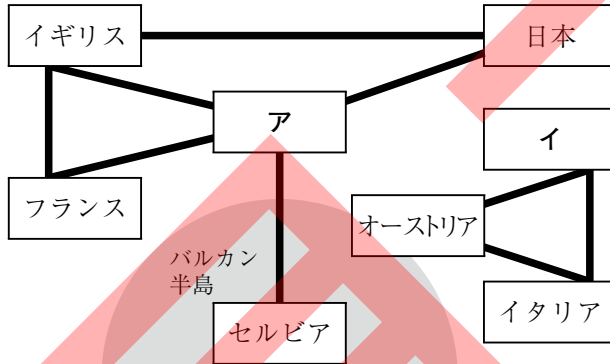
1	第6章 二度の世界大戦と日本	組 番	知	思	得点
	1 節 第一次世界大戦と日本 2 節 大正デモクラシーの時代	氏 名	60	40	100

1 次の年表を見て、各問いに答えなさい。

年	できごと
1914	(①)が始まる…………… A
1917	(②)革命が起こる…………… B
1919	ドイツで(③)が定められる…………… C
1921	(④)会議が開かれる
1925	日本で(⑤)が制定される
1928	ソ連が(⑥)を始める…………… D

五か年計画
ワシントン
治安維持法
第一次世界大戦
ロシア
三・一独立
民族自決
ワイマール憲法

- (1) 年表中の①～⑥にあてはまることばを、右上の語群の中から選んで、それぞれ書きなさい。
 (2) **A**について、下の図は当時の国際関係を表したものである。この図を見て、次の問いに答えなさい。



- ① 上の図中ア、イにあてはまる国名をそれぞれ書きなさい。
 ② 図中のバルカン半島は、当時何と呼ばれていたか書きなさい。
 (3) 図中のア、イギリス、フランスの3国の協力関係を何というか書きなさい。
 (4) **A**について、参戦したどの国も大量の兵士と物資を前線に送るために、国民・経済・資源や科学技術を総動員した戦争になった。このような戦争を何というか書きなさい。
 (5) **B**の革命の結果、1922年に成立した国の名前を書きなさい。
 (6) **B**の革命を指導した人物の名前を書きなさい。
 (7) **C**と同じ時期にアメリカのウィルソン大統領の提案でつくられた、世界平和と国際協調を目的とする国際機構を何というか書きなさい。
 (8) **D**を始めた人物の名前を書きなさい。

2 次の各問いに答えなさい。

- (1) 1922年に部落差別からの解放を目指すため、京都で結成された組織を何というか書きなさい。
 (2) 労働者が労働条件の改善などを要求してストライキなどを行うことを何というか書きなさい。
 (3) 大正期に活躍した人物について、次の各文にあてはまる人物を下の語群の中から選んで、それぞれ書きなさい。
 ① 「羅生門」「蜘蛛の糸」など、知性的な短編で人々に新鮮な印象をあたえた作家
 ② 青鞥社を結成して女性解放を唱え、新婦人協会を設立した人物
 ③ 民本主義を唱え、一般民衆の意向に沿って政策を決定することを主張した人物
 【 平塚らいてう 芥川龍之介 吉野作造 小林多喜二 美濃部達吉 】

1 〈知識・技能〉各3点(45点)

(1)	①	第一次世界大戦	3
	②	ロシア 革命	3
	③	ワイマール憲法	3
	④	ワシントン 会議	3
	⑤	治安維持法	3
	⑥	五か年計画	3
(2)	ア	ロシア	3
	イ	ドイツ	3
(3)	①	ヨーロッパの火薬庫	3
	②	三国協商	3
	③	総力戦	3
	④	ソビエト社会主義共和国連邦(ソ連)	3
	⑤	レーニン	3
	⑥	国際連盟	3
	⑦	スターリン	3
	⑧	スターリン	3

2 〈知識・技能〉各3点(15点)

(1)	①	全国水平社	3
	②	労働争議	3
(3)	①	芥川龍之介	3
	②	平塚らいてう^(ちやう)	3
	③	吉野作造	3

3 次の各問いに答えなさい。

- (1) 大正時代の政治のようすについて説明した次の文を読み、①～③にあてはまることばの組み合わせとして最も適当なものを、下のア～エまでのの中から選んで、そのかな符号を書きなさい。

藩閥や一部の役人中心の政治が続かなかで、(①)運動が高まり、(②)や加藤高明を首相とする(③)内閣が成立した。

ア ①自由民権 ②桂太郎 ③議会 イ ①護憲 ②原敬 ③議会
ウ ①護憲 ②原敬 ③政党 エ ①自由民権 ②桂太郎 ③政党

- (2) (1)の②の人物が組織した内閣について説明した文として適当なものを、次のア～エまでのの中から二つ選んで、そのかな符号を書きなさい。(順不同)

ア 内閣を構成するすべての大臣が同じ政党の党員であった。
イ 軍隊を出動させて米騒動を鎮圧した。
ウ 選挙法を改正し、選挙権をもつのに必要な納税額を引き下げた。
エ 普通選挙の実現に対して消極的な姿勢をとった。

- (3) ベルサイユ条約によってドイツに課せられた講和条件の内容として適当なものを、次のア～エまでのの中から二つ選んで、そのかな符号を書きなさい。(順不同)

ア 領土の縮小 イ 軍事増強
ウ 巨額の賠償金 エ 日本との同盟の破棄

- (4) 1925年、普通選挙法が成立したことで有権者は大幅に増えた。その理由を次のことばを使って簡潔に書きなさい。【納税額】

- (5) 大正時代の文化や生活について説明した文として誤っているものを、次のア～エまでのの中から二つ選んで、そのかな符号を書きなさい。(完答・順不同)

ア 中学校や高等女学校への進学率が高まり、大学や専門学校も数が増えた。
イ 新橋・横浜間に鉄道が開通するなど、交通機関が発達した。
ウ 森鷗外は、欧米の文化に向き合う知識人の視点から小説「舞姫」を発表した。
エ ラジオ放送が全国に普及し、新聞と並ぶ情報源になった。

〈思考・判断・表現〉

3(2)(3)各2点, (1)(4)(5)各4点(20点)

(1)	ウ	4
(2)	ウ エ	2 2
(3)	ア ウ	2 2
(4)	(例)納税額による制限を廃止したから。 (教師判断)	4
(5)	イ, ウ	4

〈思考・判断・表現〉

4(1)(2)2点, (3)(4)(5)(6)各4点(20点)

4 次の史料や写真を見て、各問いに答えなさい。

- A 一、中国政府は、①が山東省にもっているいっさいの権利を日本にゆずる。
一、日本の旅順・大連の租借の期限、②の期限を99か年延長する。
一、中国政府は、南満州・東部内蒙古における鉱山の採掘権を日本国民にあたえる。(部分要約)



- (1) 1915年、日本はAを中国に認めさせた。Aの史料を何というか書きなさい。
(2) Aについて、史料の①、②にあてはまることばの組み合わせとして最も適当なものを、次のア～エまでのの中から選んで、そのかな符号を書きなさい。

ア ①ドイツ ②南満州鉄道 イ ①ロシア ②南満州鉄道
ウ ①ロシア ②シベリア鉄道 エ ①ドイツ ②シベリア鉄道

- (3) 日本がAを中国に認めさせた後に起こった、次のア～ウのできごとを年代の古い順に並べて、そのかな符号を書きなさい。

ア 孫文が中国国民党を結成する。 イ 五・四運動が起こる。
ウ パリ講和会議が開かれる。

- (4) 日本の植民地となっていた朝鮮のようすとして誤っているものを、次のア～エまでのの中から一つ選んで、そのかな符号を書きなさい。

ア 民族自決の考えの影響を受けて、三・一独立運動が起こった。
イ 朝鮮総督府は、独立運動を武力で鎮圧した。
ウ 朝鮮総督府は、日本への同化政策を進めた。
エ 朝鮮総督府は、独立運動後も、朝鮮の人々に政治的な権利を認めなかった。

- (5) Bの人物は、どのような方法でイギリスに抵抗したか。抵抗した方法として適当なものを、次の語群の中から二つ選んで、それぞれ書きなさい。(完答・順不同)

【差別 非暴力 服従 無差別 暴力 不服従】

- (6) Bの人物がイギリスへの抵抗運動を始めた理由を、次のことばを使って簡潔に書きなさい。【自治】

(1)	二十一か条の要求	2
(2)	ア	2
(3)	ウ → イ → ア	4
(4)	エ	4
(5)	非暴力・不服従	4
(6)	(例)インドに自治をあたえる約束をイギリスが守らなかったため。 (教師判断) ※「イギリスが約束を守らなかったから。」という内容が書いてあれば可。	4

2	第6章 二度の世界大戦と日本	組 番	知	思	得点
	3節 世界恐慌と日本の中国侵略 4節 第二次世界大戦と日本	氏 名	60	40	100

1 次の年表を見て、各問いに答えなさい。

年	できごと
1932	(①)が建国される 海軍将校により、(②)事件が起こる…………… A
1933	日本が(③)を脱退する…………… B
1936	陸軍青年将校により、(④)事件が起こる
1937	(⑤)戦争が始まる
1939	(⑥)が始まる…………… C
1940	(⑦)が結ばれる
1941	(⑧)戦争が始まる
1945	日本に原子爆弾が落とされる…………… D 日本は(⑨)を受け入れる

(1) 年表中の①～⑨にあてはまることばを、次の語群の中から選んで、それぞれ書きなさい。

五・一五	中華民国	第二次世界大戦	柳条湖	ポツダム宣言
ベルサイユ条約	満州国	国際連盟	南北	太平洋
二・二六	大韓帝国	日中	日独伊三国同盟	

- (2) **A**の事件で殺害された首相の名前を書きなさい。
- (3) **B**のできごとの原因の一つである柳条湖事件を調査するために、国際連盟が派遣した調査団の団長の名前を書きなさい。
- (4) **C**の戦争が始まる前、ドイツがソ連と結んだ条約を何というか書きなさい。
- (5) **C**の戦争は、ドイツがどこの国を侵攻したことで起こったのか書きなさい。
- (6) **D**について、**a** 8月6日、**b** 8月9日に原子爆弾が落とされた日本の都市をそれぞれ書きなさい。

2 次の各問いに答えなさい。

- (1) 第一次世界大戦後のヨーロッパで、競争に打ち勝った強い者が弱い者を支配する社会を望んで、人間の平等を否定した政治運動のことを何というか、カタカナで書きなさい。
- (2) 国民政府(国民党)と共産党の内戦が行われていた中国で、共産党を率いていた人物の名前を書きなさい。
- (3) 挙国一致の戦時体制をつくりあげるために、1940年に日本のすべての政党が解散して、合流した組織を何というか書きなさい。
- (4) 1938年、政府が議会の承認なしに、労働力や物資を動員できるようにした法律を何というか書きなさい。
- (5) ドイツの占領政策に対し、ヨーロッパ各地で行われた、武力などによる抵抗運動を何というか、カタカナで書きなさい。

1 〈知識・技能〉各3点(45点)

①	満州国	3
②	五・一五 事件	3
③	国際連盟	3
④	二・二六 事件	3
(1) ⑤	日中 戦争	3
⑥	第二次世界大戦	3
⑦	日独伊三国同盟	3
⑧	太平洋 戦争	3
⑨	ポツダム宣言	3
(2)	犬養毅	3
(3)	リットン	3
(4)	独ソ不可侵条約	3
(5)	ポーランド	3
(6) a	広島 市	3
b	長崎 市	3

2 〈知識・技能〉各3点(15点)

(1)	ファシズム	3
(2)	毛沢東	3
(3)	大政翼賛会	3
(4)	国家総動員法	3
(5)	レジスタンス	3

3 次の各問いに答えなさい。

(1) 次の写真A～Cを年代の古い順に並べて、その符号を書きなさい。



(2) 日本が東南アジアに進出した目的として誤っているものを、次のア～エまでのの中から一つ選んで、そのかな符号を書きなさい。

- ア イギリス・フランスがドイツとの戦いを優勢に進めていたため。
- イ 援蒋ルートを遮断するため。
- ウ 石油や天然ゴムの資源を獲得するため。
- エ 「大東亜共栄圏」の建設のため。

(3) ミッドウェー海戦後の戦局について述べた文として適当なものを、次のア～オまでのの中から二つ選んで、そのかな符号を書きなさい。(完答・順不同)

- ア この海戦の敗北後、日本軍の攻勢が止まり、戦争が長期化した。
- イ 日本軍はガダルカナル島で勝利し、連合国への反撃を開始した。
- ウ この海戦での日本の勝利をきっかけに、戦争が終結した。
- エ サイパン島が陥落したのをきっかけに、本土への空襲が激化した。
- オ 日本軍はこの海戦で勝利をおさめた後、マレー半島に上陸した。

(4) 次の①～④の下線部のうち、誤っていることばの符号をそれぞれ一つ書き、正しいことばに直して書きなさい。(完答)

- ① 1930年に立憲民政党の、浜口雄幸内閣は、軍備を縮小して国民の負担を減らすため、イギリスやアメリカと協調して、ワシントン海軍軍縮条約を結んだ。
- ② 1931年に日本は、柳条湖で満鉄が爆破されたことを口実に、盧溝橋事件を起こした。
- ③ アメリカの、ウィルソン大統領とイギリスのチャーチル首相は、1941年に、大西洋憲章を発表し、ナチス・ドイツに対決する意思と戦後の平和構想を示した。
- ④ 戦争が長期化するにつれ、それまで、徴兵を猶予されていた文科系の大学生などが軍隊に召集される、勤労動員も行われた。

4 次の各問いに答えなさい。

(1) 右の写真は、アメリカが世界恐慌による大不況に対応するために行った政策のようすを写したものである。アメリカが積極的に公共事業をおこした目的を簡潔に書きなさい。



(2) 次のア～エのできごとを年代の古い順に並べて、そのかな符号を書きなさい。

- ア 昭和恐慌が起こる。
- イ 関東大震災が起こる。
- ウ 日本で金融恐慌が起こる。
- エ 世界恐慌が起こる。

(3) 次の文章は、ブロック経済について説明したものである。文中の①～④について、正しいことばを()の中からそれぞれ選んで書きなさい。

イギリスやフランスは、本国と植民地の関係を密接にし、貿易を(① 拡大・縮小)した。また、それ以外の国からの輸入に対する関税を(② 低く・高く)した。
これに対して、植民地の(③ 多い・少ない)イタリア、ドイツ、日本などは自らのブロック経済圏を作ろうとした。その中でイタリアは、(④ ファシスト党・共産党)が勢力を伸ばした。

(4) 1945年のヤルタ会談で秘密協定を結んだ3国の組み合わせとして最も適当なものを、次のア～エまでのの中から選んで、そのかな符号を書きなさい。

- ア アメリカ・イタリア・ドイツ
- イ アメリカ・イギリス・ソ連
- ウ フランス・イタリア・ドイツ
- エ フランス・イギリス・ソ連

(5) 次のア～エのできごとを年代の古い順に並べて、そのかな符号を書きなさい。

- ア 長崎に原子爆弾が落とされる。
- イ 東京大空襲が起こる。
- ウ 玉音放送が流れる。
- エ ソ連が日本に侵攻する。

〈思考・判断・表現〉

3(1)(3)各3点,(4)各3点,(2)2点(20点)

(1)	C → B → A		3
(2)	ア		2
(3)	ア, エ		3
	符号	ことば	
(4)	①	b ロンドン	3
	②	b 満州事変	3
	③	a ローズベルト	3
	④	b 学徒出陣	3

〈思考・判断・表現〉

4(3)各2点,(1)(2)(4)(5)各3点(20点)

(1)	(例)失業者に職をあてるため。(教師判断)		3
(2)	イ → ウ → エ → ア		3
(3)	①	拡大	2
	②	高く	2
	③	少ない	2
	④	ファシスト党	2
(4)	イ		3
(5)	イ → エ → ア → ウ		3

3	第7章 現代の日本と私たち	組 番	知	思	得点
	1 節 戦後日本の出発 2 節 冷戦と日本の発展 3 節 新たな時代の日本と世界	氏 名	60	40	100

1 次の年表を見て、各問いに答えなさい。

年	できごと
1945	第二次世界大戦が終わる
1949	(①)が成立する
1950	警察予備隊が発足する……A
1951	(②)が結ばれる……B
1955	インドネシアのバンドンで (③)会議が開かれる……C
1972	(④)が日本に復帰する
1978	(⑤)が結ばれる
1990	東西ドイツが統一される
1993	ヨーロッパで(⑥)が発足する
2011	(⑦)が起きる

(1) 年表中の①～⑦にあてはまることばを、次の語群の中から選んで、それぞれ書きなさい。

石油危機	EU	大韓民国
沖縄	サンフランシスコ平和条約	
北海道	日ソ	中華人民共和国
EC	アジア・アフリカ	
東日本大震災	日韓基本条約	
日中平和友好条約	日中共同声明	

(2) 二度の世界大戦への反省から創られた国際組織を漢字4字で書きなさい。

- (3) (2)の国際組織の本部はアメリカの何という都市にあるか都市名を書きなさい。
- (4) 第二次世界大戦後、アメリカとソ連は厳しく対立するようになり、戦争寸前の緊張状態が長く続いた。この状態を何というか漢字2字で書きなさい。
- (5) Aの組織は次第に強化され、1954年には何という組織になったか書きなさい。
- (6) アメリカなどとBの条約を結んだ日本の首相の名前を書きなさい。
- (7) Cと同じ年に日本では自由民主党が結成され、以降、社会党と対立しながら政権をとり続けた。この体制を何というか書きなさい。
- (8) 日本経済は1955年から73年までの間、年平均10%程度の成長を続けた。これを何というか書きなさい。
- (9) 2001年、アメリカで起こった大規模なテロ事件を何というか書きなさい。

2 次の各問いに答えなさい。

- (1) 戦後の日本の政治改革は、GHQ(連合軍最高司令官総司令部)の指令のもとに進められた。GHQの最高司令官はだれか書きなさい。
- (2) 日本国憲法の基本原理は、基本的人権の尊重・平和主義とあと一つは何か書きなさい。
- (3) 朝鮮戦争の軍需物資が日本で調達されて日本の経済は好景気になり、復興が早まった。このときの好景気を何というか書きなさい。
- (4) 日本では、1998年に特定非営利活動促進法が制定されるなど、多くの非営利組織が活動している。この非営利組織をアルファベットで何というか書きなさい。
- (5) 2015年の国連サミットで、2030年までに達成すべきこととして、17の目標を掲げたものが採択された。これを何というか書きなさい。

1 〈知識・技能〉各3点(45点)

(1)	① 中華人民共和国	3
	② サンフランシスコ平和条約	3
	③ アジア・アフリカ会議	3
(1)	④ 沖縄	3
	⑤ 日中平和友好条約	3
	⑥ EU	3
	⑦ 東日本大震災	3
(2)	国際連合	3
(3)	ニューヨーク	3
(4)	冷戦	3
(5)	自衛隊	3
(6)	吉田茂	3
(7)	55年体制	3
(8)	高度経済成長	3
(9)	同時多発テロ	3

2 〈知識・技能〉各3点(15点)

(1)	マッカーサー	3
(2)	国民主権	3
(3)	特需景気	3
(4)	NPO	3
(5)	持続可能な開発目標(SDGs)	3

3 次の文章を読んで、各問いに答えなさい。

a 東西陣営の緊張がゆるむと、1989年、b ドイツではベルリンの壁が取りこわされ、翌年に東西ドイツが統一された。民主化の動きの中で経済に行き詰まったソ連は、1991年に解体して多くの国が独立した。
 一方で、旧ユーゴスラビアの内戦をはじめ各地で(①)が起きている。(①)を解決するうえで、平和維持活動の役割は大きく、民間の(②)も活躍している。

(1) 文章中の①、②にあてはまることばの組み合わせとして最も適当なものを、次のア～エまでのの中から選んで、そのかな符号を書きなさい。

- ア ①地域紛争 ②PKO イ ①公害問題 ②PKO
 ウ ①地域紛争 ②NGO エ ①公害問題 ②NGO

(2) 下線部 a について、二つの陣営の影響によって起きたできごととして適当なものを、次のア～エまでのの中から全て選んで、そのかな符号を書きなさい。
 (完答・順不同)

- ア 核兵器をふくむ軍備拡張を競い合った。
 イ 中国で、アメリカが支援する共産党と、ソ連が支援する国民党との間で内戦が起こった。
 ウ 朝鮮半島では、北緯38度線を境にして、南をアメリカ、北をソ連に占領された。
 エ ベトナムでのミサイル基地建設をめぐる緊張が極度に高まった。

(3) 下線部 b について、このできごとと同じ時期の日本のようすについて述べた文として最も適当なものを、次のア～エまでのの中から選んで、そのかな符号を書きなさい。

- ア 東京オリンピック・パラリンピックが開かれた。 イ 阪神・淡路大震災が発生した。
 ウ 世界金融危機の影響を受けた。 エ 不健全な好況(バブル経済)が発生した。

(4) 冷戦が激しくなると、GHQは日本の経済復興を重視するようになった。次の文はその理由について説明したものである。文中の①、②について、正しいことばを()の中からそれぞれ選んで書きなさい。

日本を①(東側・西側)陣営の強力な一員にし、②(東側・西側)陣営に対抗するため。

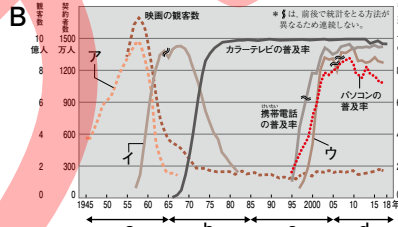
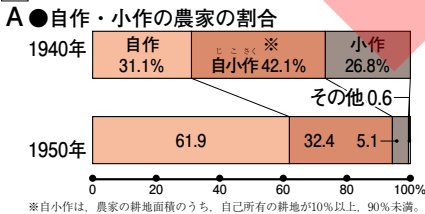
(5) 第二次世界大戦後、GHQの指令のもと、戦後改革が行われた。この改革について述べた文として誤っているものを、次のア～エまでのの中から一つ選んで、そのかな符号を書きなさい。

- ア 治安維持法が廃止され、政治活動の自由が認められた。
 イ 選挙法が改正され、選挙権が満20歳以上の男子に与えられた。
 ウ 極東国際軍事裁判を行い、戦争中に重要な地位にあった人々を公職から追放した。
 エ 昭和天皇は、GHQの意向に従い、「人間宣言」を発表し、天皇が神であるという考え方を否定した。

(6) 次のA～Cのできごとを年代の古い順に並べて、その符号を書きなさい。

- A 朝鮮戦争 B 日中共同声明 C キューバ危機

4 次のグラフを見て、各問いに答えなさい。



(1) Aのグラフの中で、1940年から1950年にかけて割合が増加した農家を書きなさい。

(2) (1)の割合は、約何倍になったか書きなさい。

(3) Aのような変化がなぜ起きたのか、その理由を次のことばを使って簡潔に書きなさい。【政府 地主 小作人】

(4) Bのグラフの中で、①白黒テレビの普及率、②インターネットの普及率を表すものはどれか、ア～ウまでのの中からそれぞれ選んで、そのかな符号を書きなさい。

(5) 次のできごとはそれぞれどの時期にあたるものか。Bのグラフの中のa～dまでのの中から選んで、その符号を書きなさい。

- ① 沖縄の日本復帰 ② 東日本大震災
 ③ 日本が国際連合に加盟 ④ 京都議定書の採択

〈思考・判断・表現〉

3 (1)4各2点、(5)6各3点、(2)3各4点(20点)

(1)	ウ	2
(2)	ア、ウ	4
(3)	エ	4
(4)	① 西側	2
	② 東側	2
(5)	イ	3
(6)	A → C → B	3

4 〈思考・判断・表現〉各2点、(3)4点(20点)

(1)	自作	2
(2)	約 2 倍	2
(3)	(例)地主が持つ小作地を政府が強制的に買い上げて、小作人に安く売りわたしたから。 (教師判断) ※「小作地を政府が小作人に与えた」のように【買い上げて売りわたす】内容になっていなければ不正解。	4
(4)	① イ	2
	② ウ	2
(5)	① b	2
	② d	2
	③ a	2
	④ c	2